

C

प्रश्नपत्रिका अनुक्रमांक

770001

महाएक्झाम

पूर्व माध्यमिक शिष्यवृत्ती सराव परीक्षा - २०१७

माध्यम : मराठी

विषय : तृतीय भाषा व बुद्धिमत्ता चाचणी

दिनांक : ०५/०२/२०१७

वेळ : १.३० तास

इयत्ता : ८ वी

एकूण गुण : १५०

सूचना :

- (१) या प्रश्नपत्रिकेत दोन विभाग आहेत. विभाग - १ मध्ये प्रत्येकी दोन गुणांचे २५ प्रश्न तृतीय भाषा या विषयाचे असून, विभाग - २ मध्ये प्रत्येकी दोन गुणांचे ५० प्रश्न बुद्धिमत्ता चाचणी या विषयाचे आहेत.
- (२) या प्रश्नपत्रिकेत प्रत्येकी २ गुणांचे ७५ प्रश्न आहेत.
- (३) सर्व प्रश्न सोडवणे आवश्यक आहे.
- (४) प्रश्नपत्रिकेत प्रत्येक प्रश्नास चार पर्यायी उत्तरे दिलेली आहेत. त्यांतील बरोबर पर्यायी उत्तराचा क्रमांक असलेले वर्तुळ उत्तरपत्रिकेत काळ्या किंवा निळ्या बॉलपेननेच पूर्ण रंगवावे.
उदा. : प्रश्न क्र. ६ च्या बरोबर उत्तराचा पर्याय - क्रमांक २ असेल, तर तो खालीलप्रमाणे रंगवावा.
प्रश्न क्र. ६ ① ● ③ ④
- (५) पुढीलप्रमाणे रंगविलेले उत्तर ग्राह्य धरण्यात येणार नाही. असे उत्तर लिहिल्यास शून्य गुण दिले जातील.
① ② ● ④
- (६) पर्यायाची उत्तरे रंगविताना काळ्या किंवा निळ्या शाईच्या बॉलपेनचाच वापर करावा. पेन्सिलने रंगविलेली उत्तरे ग्राह्य धरण्यात येणार नाहीत.
- (७) एकदा रंगविलेली उत्तरे बदलता येणार नाहीत.
- (८) एकापेक्षा अधिक वर्तुळांत रंगविलेली उत्तरे, तसेच खाडाखोड करून रंगविलेली उत्तरे ग्राह्य धरण्यात येणार नाहीत.
- (९) परीक्षेस मर्यादित वेळ असल्याने एखाद्या प्रश्नाचे उत्तर तुम्हाला येत नसल्यास, त्याच्या पुढील प्रश्न सोडवावेत किंवा शेवटी वेळ शिल्लक राहिल्यास न सोडवलेल्या प्रश्नांसाठी पुन्हा प्रयत्न करावा.

विषय : तृतीय भाषा व बुद्धिमत्ता चाचणी

वेळ : दुपारी ०१.३० ते दुपारी : ०३.००

- Q.7** Pick the odd one out.
1) happiest 2) easiest 3) ugliest 4) easy
- Q.8** Find the correct Wh-question which will give the underlined words as the answer.
The little boy screamed loudly.
1) How did the little boy scream ? 2) When did the little boy scream ?
3) Why did the little boy scream ? 4) Who screamed loudly ?
- Q.9** Choose correct alternatives from the following underlined word.
We must exercise regularly.
1) adverb 2) verb 3) adjective 4) conjunction
- Q.10** Choose an appropriate meaning of modal verb from given sentence.
Prices ought to come down soon.
1) probability 2) necessity 3) certainly 4) obligation
- Q.11** Fill in the blanks with the suitable conjunction. I called him _____ he did not hear me.
1) or 2) and 3) but 4) else
- Q.12** Choose the correct future continuous tense of the verb.
We _____ for the train at the platform.
1) will wait 2) shall be waiting 3) waited 4) waiting
- Q.13** Choose the two correct sentences in the passive voice.
1) He was rewarded by the Emperor. 2) This bridge was built by the army.
3) Columbus discovered America. 4) I had written a story.
- Q.14** Choose the most appropriate 'Indirect Speech for the given' Direct speech.
The Doctor said to the patient, "Don't take a heavy diet for a week."
1) The doctor asked the patient that he should not take a heavy diet for a week.
2) The doctor said to the patient to have light diet for a week.
3) The doctor advised the patient not to take a heavy diet for a week.
4) The doctor requested the patient not to have a heavy diet for a week.
- Q.15** Find out comparative degree from following options. Choose two correct alternative form the following.
1) John is taller than any other boys in the class.
2) Very few boys in the class are as tall as John.
3) John is taller than most other boys in the class.
4) John is tallest boy in the class.
- Q.16** Parents has written a note to class teacher. Read the short note and choose correct option.
My son Amey was not well since last four days, so he could not attend school. Therefore I request you please _____ him to sit in the class.
Thanks
1) trust 2) allow 3) give 4) punish

Q.17 Select the correct option to complete the given slogan.

Save trees _____

- 1) Save Human 2) Save Life 3) Save County 4) Save money

Q.18 Read the conversation between two friends. Choose correct option.

Soham : There was a good programme on TV last night about elephant ? Did you see it ?

Sam : Yes, it was wonderful. Have you ever _____ a live elephant ?

Soham : Yes, and I have touched one, too.

Soham : When was that ?

Sam : Two years ago when I was on holiday in kenya.

- 1) seeing 2) saw 3) seen 4) same

Q.19 Answer the given question by selecting a suitable option.

What information will you provide in the Media of a website ?

- 1) All information about the new product.
2) Information about vacancies, jobs.
3) All information about meetings only.
4) All the news, event and newspaper coverage.

Q.20 to Q.22 : Read the passage and choose the correct alternatives.

The secret of healthy body is a healthy diet. Today's diet, of people who are always on the run, has unfortunately become unhealthy and does much harm to the body. Grabbing quick bites like 'Vada Pav', 'Dabeli', 'Samosa's, burger etc. give no nutrition to the body. Wise eating would mean that we include proper proportions of all elements of food and most important plenty of water.

Q.20 What is the most important thing necessary to the body ?

- 1) Soft drink 2) Juice 3) Water 4) Tonic

Q.21 Wise eating mean :

- 1) Improper proportion of all elements. 2) Proper proportion of all elements.
3) Insufficient elements of food. 4) Excess of food.

Q.22 This food has no nutrition value.

- 1) Vada Pav 2) Egg 3) Pulses 4) Milk

Q.23 How people are taking their diet ?

- 1) In a hurry 2) Peacefully 3) In a tiffin box 4) Insufficient

Q.24 What is the secret of healthy body ?

- 1) healthy diet 2) water
3) More supplementary food 4) Only physical exercise

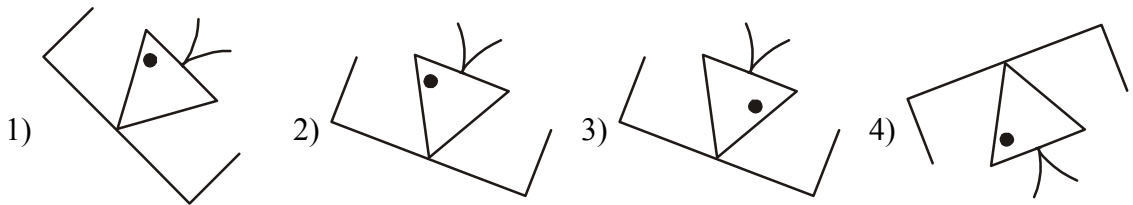
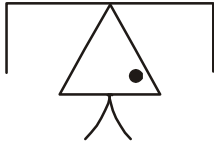
Q.25 Find out meaningful word from jumbled letters. Choose the correct alternative.

acusedrigo

- 1) disgust 2) dishonour 3) disappear 4) discourage

विभाग 2 : बुद्धिमत्ता चाचणी

- प्र.26 'नगरपरिषद' या शब्दात मध्यभागी येणाऱ्या अक्षराच्या दोन्ही बाजूने समान अंतरावर असणारी अक्षरांची जोडी कोणती?
1) द आणि ग 2) न आणि ष 3) ग आणि ष 4) र आणि प
- प्र.27 'साखरभात' या शब्दातील अक्षरांमधून खालीलपैकी कोणता शब्द तयार होऊ शकत नाही.
1) भारत 2) साखरा 3) साभार 4) साखर
- प्र.28 'जंगलसफारीत आम्ही बछडा, पाडस व छावा पाहिला,' या वाक्यात पुढीलपैकी कोणाच्या पिलाचा उल्लेख नाही.
1) हरण 2) वाघ 3) सिंह 4) हत्ती
- प्र.29 ABCDE FGHIJ KLMNO PQRST UVWXYZ दिलेल्या अक्षरमालेतील D आणि R या अक्षरांच्या मध्यभागी येणाऱ्या अक्षराचा X पासूनच क्रमांक कितवा?
1) चौदावा 2) तेरावा 3) आठवा 4) पंधरावा
- प्र.30 ABCDE FGHIJ KLMNO PQRST UVWXYZ दिलेल्या अक्षरमालेतील G पासून W पर्यंतची अक्षरे उलट क्रमाने लिहिल्यास उजवीकडून आठवे अक्षर कोणते येईल?
1) O 2) M 3) N 4) P
- प्र.31 गटात न बसणारे पद निवडा?
1) तबला 2) वीणा 3) सतार 4) सारंगी
- प्र.32 गटात न बसणारी आकृती ओळखा?



प्र.33 गटात न बसणारी संख्या शोधा?

- 1) 384 2) 2244 3) 808 4) 8412

प्र.34 गटात न बसणारी संख्या शोधा.

- 1) $\frac{12}{20}$ 2) $\frac{27}{36}$ 3) $\frac{21}{28}$ 4) $\frac{18}{24}$

प्र.35 ABCDE FGHIJ KLMNO PQRST UVWXY वरील वर्णमाला पाहून गटातील वेगळे पद ओळखा?

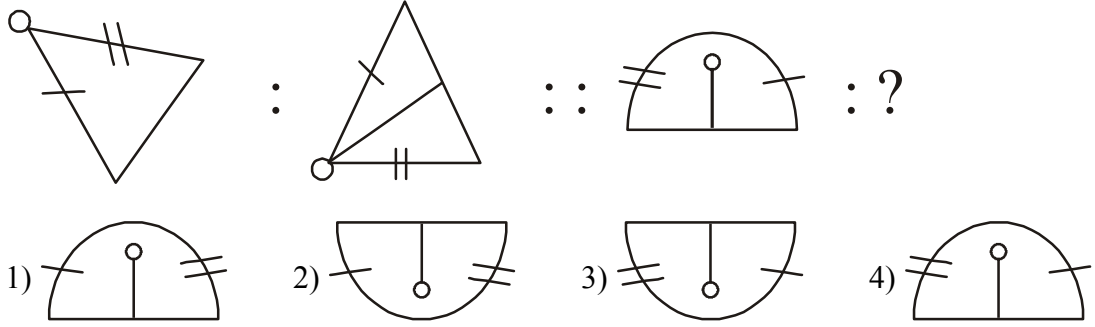
- 1) FI 2) GP 3) EH 4) IT

प्र.36 पहिल्या पदाचा संबंध दुसऱ्या पदाशी आहे तसाच संबंध तिसऱ्या पदाचा चौथा पदाशी आहे, हे लक्षात घेऊन योग्य पर्याय निवडा?

दसरा : आश्विन : गणेश चतुर्थी

- 1) भाद्रपद 2) श्रावण 3) चैत्र 4) कार्तिक

प्र.37 पहिल्या आकृतीचा दुसऱ्या आकृतीशी असलेला समसंबंध लक्षात घेऊन प्रश्नचिन्हांच्या ठिकाणी येणारी आकृती निवडा?



प्र.38 पहिल्या दोन पदांचा समसंबंध लक्षात घेऊन प्रश्नचिन्हाच्या ठिकाणी येणारी संख्या पर्यायातून शोधा.

47 : 53 :: 59 : ?

- 1) 61 2) 67 3) 69 4) 71

प्र.39 पहिल्या दोन पदांचा समसंबंध लक्षात घेऊन प्रश्नचिन्हाच्या ठिकाणी येणारी संख्या शोधा.

67 : 21 :: 89 : ?

- 1) 35 2) 34 3) 36 4) 72

प्र.४० पहिल्या दोन पदांमध्ये असलेला समसंबंध लक्षात घेऊन प्रश्नचिन्हाच्या ठिकाणी येणारे पद निवडा.

ABCDE FGHIJ KLMNO PQRST UVWXY

CH : 24 : BX : ?

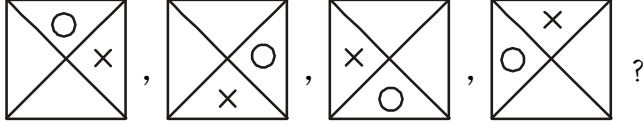
- 1) 26 2) 48 3) 44 4) 38

प्र.४१ खालील संख्यामालेत प्रश्नचिन्हाच्या ठिकाणी येणारी संख्या पर्यायातून निवडा.

91, 78, 66, 55, ?

- 1) 44 2) 36 3) 43 4) 45

प्र.४२ प्रश्नचिन्हाच्या ठिकाणी क्रमाने येणारी आकृती ओळखा?



- 1) 2) 3) 4)

प्र.४३ चिन्हांचा क्रम लक्षात घेऊन प्रश्नचिन्हाच्या ठिकाणी येणाऱ्या चिन्हांचा गट पर्यायातून निवडा.

□○★★-○□○-★★□○-○★★□○

- 1) □○★ 2) □★○ 3) □★★ 4) □★□

प्र.४४ खाली दिलेल्या संख्यामालिकेतील विसंगत पद ओळखा. (दोन चुकीचे पर्याय आहेत, ते दोन्ही पर्याय निवडा.)

2, 3, 10, 15, 25, 37, 50

- 1) 2 2) 25 3) 37 4) 15

प्र.४५ खाली दिलेल्या संख्यामालिकेतील चुकीचे पद ओळखा?

8, 12, 18, 25, 36, 48

- 1) 36 2) 18 3) 12 4) 25

प्र.४६ खालील प्रश्नचिन्हाच्या ठिकाणी येणारे अक्षर पर्यायातून निवडा.

ABCDE FGHIJ KLMNO PQRST UVWXY

A, D, I, P, ?

- 1) W 2) X 3) V 4) Y

- प्र.47 एका सांकेतिक लिपीत 'पकड' हा शब्द 'पडकडडड' असा लिहिला जातो, तर त्या लिपीत 'धडक' हा शब्द कसा लिहिला जाईल ?
 1) धडडडकड 2) डधडडडकड 3) धडडकड 4) धडडडकडड
- प्र.48 एका सांकेतिक भाषेत जर CAT = 532, TOP = 374, PAN = 872 तर POT = ?
 (अक्षरे व अंकांचा क्रम सारखा असेलच असे नाही)
 1) 743 2) 873 3) 472 4) 872
- प्र.49 एका सांकेतिक लिपीत बढक = ⊗△□ व सरळ = ⊗▽○ तर त्याच लिपीत ⊗⊗○ असा लिहिलेला शब्द कोणता असेल ?
 1) बरळ 2) सरक 3) रसद 4) सबळ
- प्र.50 M___OM___ NOMMN___ MM___OM या अक्षरांच्या लयबद्ध मांडणीत प्रश्नचिन्हाच्या जागी कोणत्या अक्षरांचा समूह येईल ?
 1) MMON 2) NMON 3) OMNN 4) NOMN
- प्र.51 खालील चिन्हांतील लयबद्ध मांडणी लक्षात घेऊन प्रश्नचिन्हांच्या जागी येणारा चिन्हगट पर्यायातून निवडा ?
 ★★○△___△○★___★○___△△___★★★○△
 1) △○★○ 2) △★△○ 3) ★○△△ 4) △★○△
- प्र.52 खाली दिलेल्या अंकांच्या लयबद्ध मांडणीत रिक्त्या जागी कोणते अंक क्रमशः येतील ?
 55___39___643___28
 1) 748 2) 718 3) 477 4) 717
- प्र.53 खालील मनोऱ्याचे निरीक्षण करून प्रश्नांच्या उत्तराचा योग्य पर्याय निवडा.
 1
 2 3 4
 5 6 7 8
 9 10 11 12 13
 14 15 16 17 18 19
 20 21 22 23 24 25 26
 जर 14915 : 191318 तर 526 : ?
 1) 847 2) 437 3) 846 4) 837

प्र.54 मनोच्याचे निरीक्षण करून प्रश्नांच्या उत्तराचा योग्य पर्याय निवडा.

1
2 3 4
5 6 7 8
9 10 11 12 13
14 15 16 17 18 19
20 21 22 23 24 25 26

जर 9152216 : 13182417 तर 10222114 : ?

1) 12172419

2) 7171819

3) 12232418

4) 12242519

प्र.55 खालील मनोच्यातील अक्षर मांडणीवरून प्रश्नाचे उत्तर पर्यायातून शोधा.

a
b c
d e f
g h i j
k l m n o
p q r s t u

जर glrh : jnsi तर klde : ?

1) onie

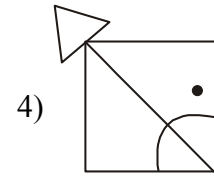
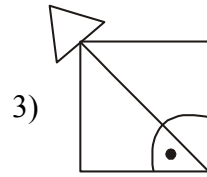
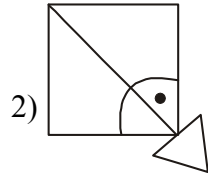
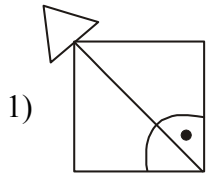
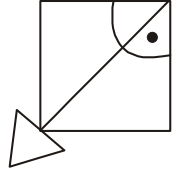
2) onfe

3) otjf

4) Jice

प्र.56 पुढील प्रश्नआकृतीचे पाण्यातील प्रतिबिंब असणारी आकृती निवडा.

पाण्यातील प्रतिबिंब



प्र.57 दिलेल्या प्रश्नाकृतीचे जलप्रतिबिंब पर्यायातून निवडा?

जलप्रतिबिंब

पान

- 1)  2)  3)  4) 

प्र.58 पुढील प्रश्नाकृतीची आरशातील प्रतिमा पर्यायातून निवडा.

आरशातील प्रतिमा

5682

- 1)  2)  3)  4) 

प्र.59 अजितचे वय सुयशच्या वयाच्या तिप्पट आहे. दोघांच्या वयातील फरक 20 वर्षे असल्यास दोघांच्या वयांची बेरीज किती?

- 1) 38 वर्षे 2) 60 वर्षे 3) 30 वर्षे 4) 40 वर्षे

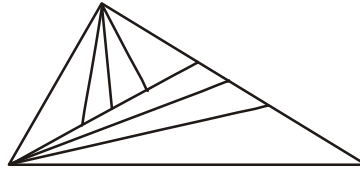
प्र.60 कविताला दोन बहिणी आणि एक भाऊ आहे. भावाचे नाव अक्षय आहे तर अक्षयला बहिणी किती?

- 1) दोन 2) तीन 3) एक 4) चार

प्र.61 एका लंबकाच्या घड्याळात दर तासाला तासाच्या संख्येप्रमाणे व दर अर्ध्या तासाला एक याप्रमाणे टोले वाजतात तर त्या घड्याळात पावणेतीन वाजल्यावर सव्वासात वाजेपर्यंत किती टोले वाजतील?

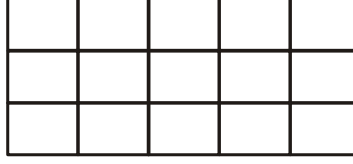
- 1) 30 2) 28 3) 29 4) 31

प्र.62 सोबतच्या आकृतीत त्रिकोण किती?



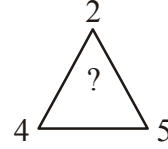
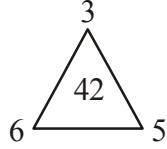
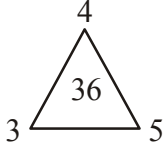
- 1) 18 2) 19 3) 20 4) 12

प्र.63 सोबतच्या आकृतीत आयत किती?



- 1) 63 2) 84 3) 98 4) 90

प्र.64 खालील प्रश्नातील आकृतीत प्रश्नचिन्हाच्या जागी काय येईल, ते ठरवा.



- 1) 22 2) 48 3) 30 4) 33

प्र.65 35 मुलांच्या रांगेत राजेंद्र मध्यभागी उभा आहे, तर त्याच्या डावीकडे उभा असणाऱ्या दीपकचा रांगेतील क्रमांक कितीवा? (दोन पर्याय अचूक आहेत दोनही पर्याय निवडा)

- 1) उजवीकडून 19 वा 2) डावीकडून 19 वा
3) उजवीकडून 17 वा 4) डावीकडून 17 वा

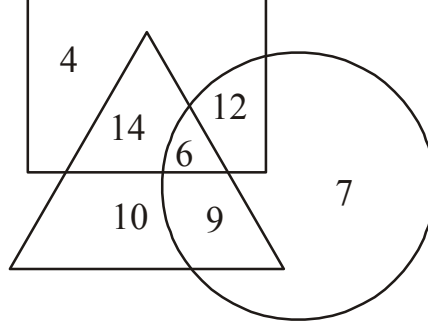
प्र.66 सुयश, प्रदीप, सुजल व प्रतीक कॅरम खेळत आहेत. प्रदीप व सुजल एकमेकांचे भिडू आहेत. सुजलच्या डावीकडे प्रतीक बसला आहे. सुयशचे तोंड जर पूर्वेला असेल तर उत्तरेला कोणाचे तोंड असेल?

- 1) सुयश 2) प्रदीप 3) सुजल 4) प्रतीक

प्र.67 सूरज सवितापेक्षा 5 दिवसांनी लहान आहे तर सविता संजयपेक्षा 15 दिवसांनी मोठी आहे. संजयचा जन्म 18 मे ला झाला असेल तर खालीलपैकी सत्य विधान कोणते? (या प्रश्नात दोन पर्याय अचूक आहेत.)

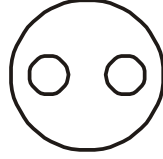
- 1) सविताचा जन्मदिनांक 3 जून आहे. 2) सूरजचा जन्म 8 मे ला झाला.
3) सूरजचा जन्म 28 जूनला झाला. 4) सूरज संजयपेक्षा मोठा आहे.

प्र.68 आकृतीचे निरीक्षण करून प्रश्नांचे उत्तर पर्यायातून शोधा? फक्त एकाच आकृतीत असणाऱ्या अंकांची बेरीज किती?



- 1) 17 2) 26 3) 21 4) 14

प्र.69 खालील आकृती कोणत्या पर्यायातील घटकांशी अचूक जुळते तो पर्याय निवडा?



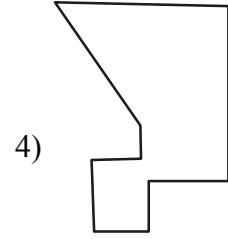
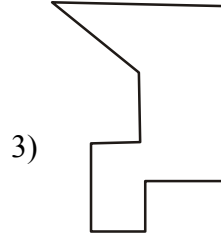
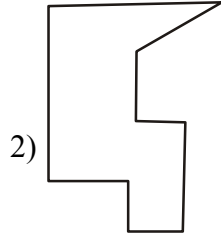
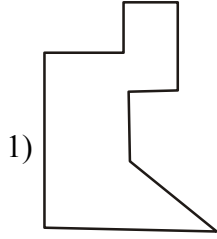
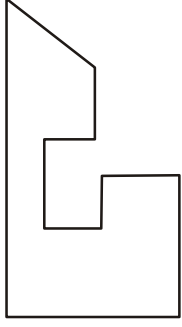
- 1) गाय, म्हैस, शेळी 2) कीटक, माशी, मासा
3) पुणे, महाराष्ट्र, सांगली 4) गाव, तालुका, जिल्हा

प्र.70 रिकाम्या चौकटीत प्रश्नचिन्हाच्या जागी येणारी संख्या पर्यायातून निवडा?

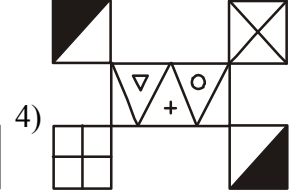
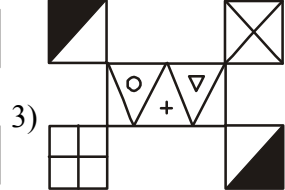
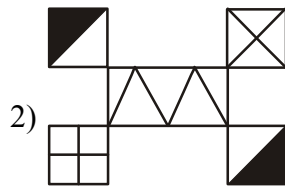

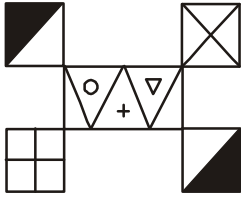
8	112	7
6	60	5
9	?	4

- 1) 72 2) 172 3) 81 4) 93

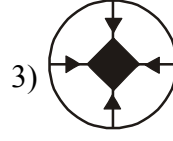
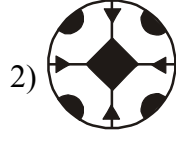
प्र.71 खालील प्रश्नाकृती पूर्ण करण्यासाठी योग्य पर्याय निवडा ?



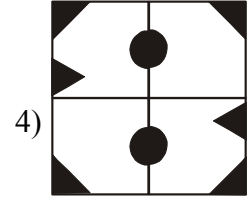
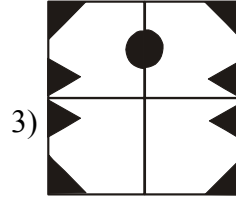
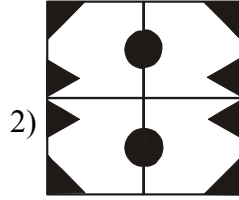
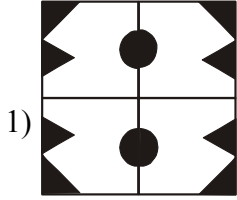

प्र.72 प्रश्नाकृतीशी तंतोतंत जुळणारी आकृती पर्यायातून निवडा ?



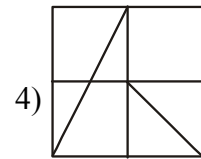
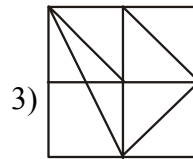
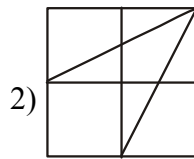
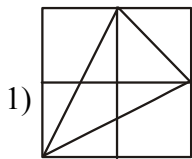
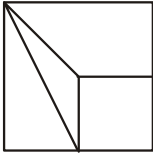
प्र.73 खालील प्रश्नाकृतीतील भाग कागदाला घडी घालून कापला असता घडी उघडल्यावर कसा दिसेल? ते पर्यायातून निवडा.



प्र.74 खालील प्रश्नाकृतीतील भाग कागदाला घडी घालून कापला असता घडी उघडल्यावर कसा दिसेल ते पर्यायातून निवडा.



प्र.75 प्रश्नाकृतीत दिलेला भाग कोणत्या आकृतीत लपलेला आहे?



★ ★ ★ ★ ★

कच्च काम